

Природознавство 5 клас

17.05.2022;  
20.05.2022

**Тема: Охорона природи. Червона книга**

1. Перечитайте відповідний параграф підручника (§47-48).
2. Перегляньте відеофрагменти:

<https://youtu.be/GQd9OmJc1Zs> - охорона природи

[https://youtu.be/\\_YQz2cMs3p4](https://youtu.be/_YQz2cMs3p4) – ТОП-5 заповідників України

<https://youtu.be/rec9oe2WYog> - Червона книга України

3. Виконайте письмово у зошиті практичну роботу .

Потрібно навести приклад не менше 10 видів живих організмів. Роботи надіслати мені



Сторінка природодослідника

**Практична робота «Складання Червоної книги своєї місцевості»**

**Завдання 1.** Поцікався у дорослих, яких рослини і тварин стало значно менше, а які, можливо, взагалі зникли на території твоєї місцевості чи збереглися лише в одному місці. Усе, про що дізнаєшся, занотуй у зошиті.

**Завдання 2.** Запиши назви рослин і тварин, про які дізнаєшся. З'ясуй, які з них занесено до Червоної книги України. Для цього скористайся засобами, які надасть вчитель, або самостійно знайди необхідну інформацію в інтернеті.

**Завдання 3.** Результати роботи оформи у вигляді таблиці.

Назва організму	До якої групи належать (рідкісні, зникаючі)	Причина зменшення кількості цих організмів



4. ЗАПАМ'ЯТАЙТЕ:

<https://youtu.be/KZlq-bIAs8o> - 15 способів берегти природу

Географія 6 клас

18.05.2022;  
20.05.2022

**Тема: Найбільші за площею і чисельністю населення держави світу.**

1. Опрацюйте параграф 61 підручника

2. Додатково перегляньте відео-фрагменти:

<https://www.youtube.com/watch?v=MnVg0yb1Tq0> – Скільки в світі країн?

<https://www.youtube.com/watch?v=WSk6-PaQZ1g> – 10 найбільших країн світу

3. Закінчіть речення.

А) Політична карта світу – це ...

Б) Найбільшою за площею державою світу є ...

В) Найбільшою за кількістю населення державою світу є ...

Г) Україна межує із ... країнами.

4. Заповніть таблицю.

**Держави-сусіди України**

Назва держави	Столиця	Розміщення відносно України

Молдова	Кишинів	пд.-сх.
Румунія		
Угорщина		
Словаччина		
Польща		
Білорусь		
Росія		

**5.** Користуючись текстом підручника, позначте на контурній карті (див. «Політична карта світу») **кордони держав, назви держав**, про які йдеться в описі **та їх столиці**. Зафарбуйте їх.

- Найбільша за площею держава світу.
- Найбільша за кількістю населення держава світу.
- Держава, яка займає весь материк.
- Найрозвинутіша державу світу.
- Найбільша за площею державу Африки.
- Держава, на честь якої названо Індійський океан.
- Найбільша державу Південної Америки.
- Друга за площею державу світу.

#### Географія 7 клас

16.05.2022

**Тема: Північний Льодовитий океан.**

**1.** Виконайте вправу по номенклатурі Індійського океану за посиланням:

<https://wordwall.net/play/2049/870/427>

**2.** Опрацюйте параграф 61 підручника (старий підручник).

**3.** Перегляньте відео-урок: <https://www.youtube.com/watch?v=hKoRorJgzvI> – Північний Льодовитий океан

**4.** Користуючись текстом підручника доповніть речення. Запишіть їх у зошит.(тільки пропущені слова)

- Північний океан омиває береги материків: ...

- Найглибшою западиною океану є ...

- Північний Льодовитий океан знаходиться у межах ..... літосферних плит.

- Характерною особливістю рельєфу дна є ...

- Північний Льодовитий океан розташований в ... кліматичних поясах.

**5.** Позначте у контурній карті (див. карту «Північний Льодовитий океан») та вивчіть об'єкти географічної номенклатури Індійського океану:

- моря: Гренландське, Норвезьке, Баранцове, Біле, Карське;

- затоки: Гудзонова;

- протоки: Данська;

- підводні хребти: Ломоносова, Менделєєва;

- острови: Нова Земля, Північна Земля, Новосибірські;

- теплі течії: Норвезька;

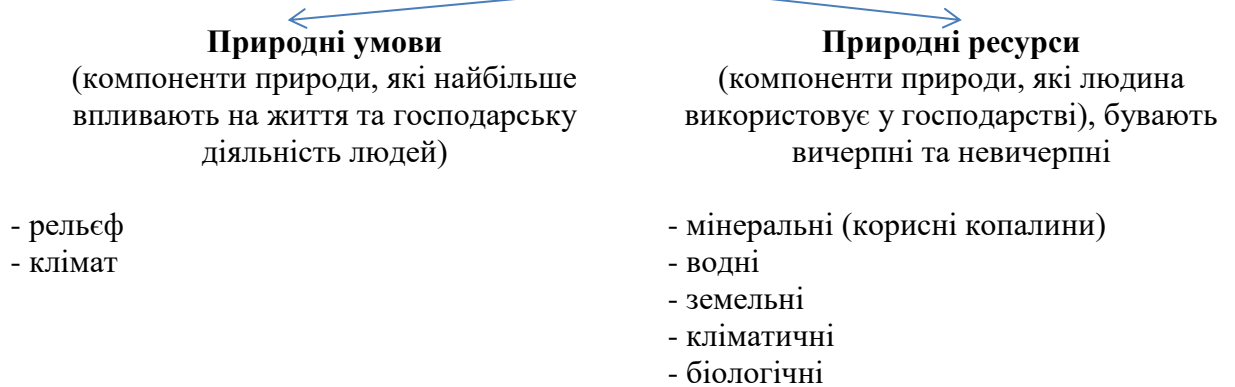
- холодні течії: Трансарктична.

20.05.2022

## «Використання природних багатств материків та океанів»

1. Опрацюйте параграф 61 підручника (автори С. Г. Кобернік, Р. Р. Коваленко).
2. Виконайте схему.

### Природа і людина



3. Доповніть таблицю.

### Природоохоронні території

Тип територій	Функції
Заповідники	Охорона і дослідження природних комплексів. Території повністю вилучаються із господарського використання.
Національні природні парки	
Пам'ятки природи	

4. Перегляньте відеофрагменти про найвідоміші природоохоронні території.  
<https://www.youtube.com/watch?v=BI1AJqsR8cg> – Асканія Нова  
<https://www.youtube.com/watch?v=V0y2bOSjMTg> – Йеллоустонський національний парк.

### Географія 8 клас

16.05.2022;  
18.05.2022

#### Тема: Особливості природних умов і ресурсів Донецької області.

**Природокористування. Об'єкти природо-заповідного фонду** (інформації в підручнику не має)

Опрацювати інформацію за посиланням: <https://bibliokids-mrpl.com.ua/uk/%D1%82%D0%B2%D0%BE%D1%8F-%D0%B4%D0%BE%D0%BD%D0%B5%D1%87%D1%87%D0%B8%D0%BD%D0%B0/%D0%BF%D1%80%D0%B8%D1%80%D0%BE%D0%B4%D0%B0-%D1%80%D1%96%D0%B4%D0%BD%D0%BE%D0%B3%D0%BE-%D0%BA%D1%80%D0%B0%D1%8E>

Переглянути презентацію (прикріплений файл)

Написати доповідь про об'єкти природно-заповідного фонду Донецької області (одне на вибір) Кам'яні могили, Крейдяна флора, Хомутовський степ та Кальміуський. «Клебан Бик», «Краматорський», «Донецький кряж», «Половецький степ», «Зуївський» і «Слов'янський курорт»

17.05.2022

**Тема. Фінансові послуги. Світові центри банківсько – фінансової діяльності. Країни – офшори.**

1. Опрацюйте параграф 44 підручника (та подану нижче схему).
2. Перегляньте відео за посиланням:  
<https://www.youtube.com/watch?v=QC2iB4cPlyk> – Фінансові послуги.
3. Дайте визначення поняттю «фінансові послуги» ( в зошиті).
4. На основі опрацьованих матеріалів складіть схему в зошиті «Види фінансових послуг».
5. Дайте письмово короткі відповіді на наступні запитання:
  - Назвіть основні фінансові установи.
  - Що собою являє фінансово-банківська система країни? Які фінансові інститути вона включає?
  - На основі опрацьованої схеми назвіть старі і нові фінансові центри. У яких країнах вони зосереджені і чому?
  - Назвіть принципи кредитування.
6. Яка причина виникнення країн – офшорів? Назвіть ці країни.
7. Користуючись підручником знайдіть ці країни на карті атласу і позначте їх на контурній карті.

**Для ознайомлення:**

У нашій країні провідну роль у фінансово-кредитному та бухгалтерському обслуговуванні відіграють банки.

В Україні існує дворівнева банківська система. Перший рівень очолює головний банк — Національний банк України (НБУ), який розташований у Києві. Він надає кредити уряду та іншим банкам. Другий рівень представлений комерційними банками.

Рейтинг найнадійніших банків України в 2017 році

<https://forinsurer.com/rating-banks>

- Райффайзен банк Аваль (Raiffeisen Bank, Австрія)
- Креді Аґріколь Банк (Credit Agricole, Франція)
- Укрсиббанк (BNP Paribas Group, Франція)
- Ощадбанк \* (державний)
- Укрексімбанк \* (державний)
- Кредобанк (PKO Bank Polska, Польща)
- Сітібанк Україна (Citigroup, США)

За територіальною ознакою найбільшу кількість фінансових установ зареєстровано в місті Києві та Київській області .

Тема 5. Фінансова діяльність. Комп'ютерне програмування

ОІС до теми «ФІНАНСОВІ ТА АУТСОРСИНГОВІ ПОСЛУГИ»

А. Фінансова діяльність

Фінансова діяльність – основа сучасного господарства

Світ: ≈20 % вартості усіх послуг (1)  
15,8 % вартості імпорту послуг України (2015 р.)

Ринок фінансових послуг – посередник руху коштів від їх власників до користувачів

Фінансові послуги

- залучення коштів на депозити;
- інкасація коштів, платіжних та розрахункових документів;
- розрахунково-касове обслуговування;
- купівля-продаж іноземної валюти в готівковій та безготівковій формах.

Здійснюють банки  
Окремі види послуг: страхові, інвестиційні, брокерські та інші компанії

Кредитні послуги

Принципи кредитування

- повернення + строковість + платність (тимчасовість поповнення коштів)
- цільовий характер (під певну мету)
- забезпеченість (наявність майна під заставу)

Міжнародні фінансові центри (86 міст)

світові міста, в яких сконцентровано багато банків міжнародного значення, великих фірм, а також є фондова біржа – постійно діючий ринок цінних паперів

Рейтинг за 5-ма критеріями: *бізнес-клімат, розвиток фінансової сфери, розвиток інфраструктури, людський капітал, репутація*

Старі фінансові центри:

Нью-Йорк, Лондон, Токіо, Цюрих, Женева, Вашингтон, Торонто, Люксембург, Франкфурт-на-Майні...

Нові фінансові центри:

Сінгапур, Сянган (Гонконг), Сеул, Ер-Ріяд, Доха, Дубай, Шанхай...

Офшорні фінансові центри:

(знижені податкові ставки, невеликі реєстраційні платежі, гарантії секретності операцій, інші пільги) на Кіпрі, Багамських Островах, Віргінських островах (Брит.), (США), Кайманових островах (Брит.), у Панамі, Науру...

Фінансові центри України: Київ, Львів, Харків, Одеса, Дніпро.

Б. Аутсорсинг та комп'ютерне програмування

18.05.2022

Тема уроку: «Фінансові послуги. Комп'ютерне програмування. Аутсорсинг»

Виконайте завдання:

1. Опрацюйте параграф 45 підручника
2. Доповніть схему.

Види фінансових послуг

послуги фінансового посередництва

страхові послуги

(доповнюємо)

(доповнюємо)

3. Дайте короткі письмові відповіді (2-3 речення) на питання, користуючись текстом підручника.

- а) Що таке кредит? Які країни мають найрозвинутіші послуги кредитування?
- б) Які функції виконують МВФ та Світовий банк?
- в) Які установи здійснюють фінансові послуги?

	<p>г) Яка мета діяльності офшорних зон? Які країни здебільшого відносять до офшорів?</p> <p>г) Що таке аутсорсинг?</p> <p>4. Підготуйтеся до контрольної роботи із теми «Третинний сектор економіки».</p>
<p>Географія 10 клас</p>	
<p>16.05.2022</p>	<p>Тема 1. Україна в геополітичному вимірі. Україна в системі глобальних економічних відносин</p> <ol style="list-style-type: none"> <li>1. Опрацюйте §44.</li> <li>2. Визначте правильні та помилкові твердження, позначивши їх знаками: правильні «+», неправильні «-». <ul style="list-style-type: none"> <li>✓ Геополітика – наука, яка розглядає вплив географічних чинників на внутрішню і особливо зовнішню політику держав і націй.</li> <li>✓ На розвиток держави географічне положення немає впливу.</li> <li>✓ В Україні назріла ситуація і розуміння того, що зовнішні і внутрішні умови створюють можливості мобілізації ресурсів, перш за все людських, підприємницьких, інтелектуальних для здійснення макроекономічного прориву.</li> <li>✓ Сепаратизм – це політична діяльність, спрямована на відокремлення етнічної, культурної, релігійної або іншої спільноти від основної частини країни.</li> <li>✓ З травня 2008 року наша держава входить до складу Світової організації торгівлі (СОТ).</li> <li>✓ Відносини Україна – ЄС – це двохсторонні відносини між Україною та ЄС у галузі міжнародної політики, економіки, освіти, науки, культури тощо.</li> <li>✓ Представництво Європейської комісії в Україні було відкрито у вересні 1993 року.</li> <li>✓ Менталітет – усі переконання, відносини, стосунки, погляди, образ мислення соціальної групи (нації) або індивіда, на який впливають соціальні, культурні та біологічні фактори.</li> <li>✓ АСЕАН – інтеграційне об’єднання країн Європи.</li> </ul> </li> <li>3. Продовжіть речення: «Україна отримала довгоочікувану свободу і незалежність _____ року.</li> <li>4. Робота з картою <ul style="list-style-type: none"> <li>➤ На політичній карті світу знайдіть Україну. Назвіть держави, з якими вона межує.</li> <li>➤ Пригадайте, між якими державами в сучасному світі точаться збройні конфлікти через спірні території. Покажіть їх на карті.</li> </ul> </li> </ol>

## 5. Методичний прийом «Так», «Ні»

На сучасній політичній карті налічується 236 країн і територій. Незалежних самостійних держав – 194. Політична карта відображає тривалий історичний розвиток людського суспільства впродовж багатьох тисячоліть. Пригадайте з історії, чи завжди на політичній карті світу була територія із назвою Україна? В складі яких територій перебувала сучасна територія України:

- Річ Посполита
- Османська імперія
- Австро – Угорська імперія
- Німеччина
- Російська імперія
- Чехословаччина

## 6. Проаналізуйте таблицю 1 «Етапи формування політичної карти світу новітнього періоду»

Таблиця 1. Етапи формування політичної карти світу новітнього періоду»

ЕТАПИ ФОРМУВАННЯ ПОЛІТИЧНОЇ КАРТИ СВІТУ НОВІТНЬОГО ПЕРІОДУ			
<b>I ЕТАП</b> (до 1939 р.)	<b>II ЕТАП</b> (1939 – середина 50-х. рр.)	<b>III ЕТАП</b> (середина 50-х. – середина 80-х. рр.)	<b>IV ЕТАП</b> (з середини 80-х. рр.)
1. Переділ німецьких колоній 2. Розпад Австро-Угорщини (1918 р.) 3. Розпад Турецької Османської імперії 4. Створення Югославії (1918 р.) 5. Створення СРСР (1922 р.)	1. Розкол Німеччини на ФРН, НДР, Західний Берлін (1949 р.) 2. Ліквідація Східної Пруссії 3. Соціалістичний табір в Європі 4. Створення держави Ізраїль (1948 р.)	1. Розпад колоніальних імперій: • Великої Британії (50-60-ті рр.) • Франції (50-60-ті рр.) • Португалії (1974 р.) • рік Африки (1960 р.)	1. Об'єднання Німеччини (1990 р.) 2. Об'єднання Ємену (1990 р.) 3. Розпад СРСР на 15 країн (1991 р.) 4. Розпад Чехословаччини (1993 р.) 5. Розпад Югославії на 6 країн (1991 р., 2006 р.) 6. Продовження деколонізації: Намібія (1990 р.), Мікронезія (1991 р.), Сянган (Гонконг) (1997 р.), Аоминь (Макао) (1999 р.), Східний Тимор (2002 р.)

- Які події відбувалися на IV етапі формування політичної карти новітнього періоду? Які наслідки розпаду СРСР?

## 7. Запам'ятайте:

- Геополітичні центри сили – найбільш потужні за економічним, військовим, науково – технічним, фінансовим та людським потенціалами країни та їх об'єднання. У сучасних умовах можна виділити сім основних геополітичних центрів сили: США, Росія,

Євросоюз, Китай, мусульманський світ, Японія, Індія. Сполучені Штати Америки - найвпливовіший центр сили.



8. За схемою «Регіони сили», визначте основні регіони «центри сили світу» і знайдіть їх на карті.
9. Робота з таблицею 2 «Геополітична роль країни»  
Розглянувши таблицю «Геополітична роль країни», визначте місце України на сучасній геополітичній карті світу?  
Таблиця 2. Геополітична роль країни



10. Дайте відповіді на запитання:
  - Яка головна мета зовнішньої політики України? (Ст. 18 Конституції України)
  - Чому після здобуття незалежності, стратегічно важливою постала проблема визначення національних інтересів і позиціонування держави на геополітичній карті світу?










16.05.2022

**Тема: Узагальнення та систематизація знань з розділу «Суспільна географія України» Контрольна робота**

1. Установлення прикордонних стовпів, облаштування прикордонної смуги, створення відповідної інфраструктури контролю за перетином і перебуванням громадян – це  
А) делімітація    Б) демаркація    В) лінія розмежування
2. Максимальна кількість населення України була в:  
А) 1991 р.    Б) 1992 р.    В) 1993 р.
3. Найбільшим центром виробництва лікарських препаратів є:  
А) Черкаси    Б) Київ    В) Суми
4. Найбільше електричного струму виробляється в області України:  
А) Миколаївській    Б) Запорізькій    В) Рівненській
5. Найбільший в Україні птахокомплекс «Агромарс» розташований в області:  
А) Київській    Б) Черкаській    В) Вінницькій
6. Виберіть країну, яка не входить до списку офшорних зон:  
А) Ірландія    Б) Панама    В) Кіпр    Г) Республіка Корея
7. Визначте, у виробництві якої продукції Україна посідає провідні позиції у світі та Європі та яка продукція становить найбільшу частку експорту із перелічених нижче:  
А) соняшникова олія    Б) молоко    В) м'ясо    Г) цукор
8. Найбільшою міжнародною товарною біржою є:  
А) Токійська    Б) Амстердамська    В) Сіднейська    Г) Паризька
9. Яке місто України представлене у глобальному ланцюгу додатної вартості у виробництві:  
А) Київ    Б) Донецьк    В) Дніпро    В) Миколаїв
10. Назвіть міжнародну організацію, яка контролює світовий нафтовидобуток та експорт товарів:  
А) НАФТА    Б) ОПЕК    В) АСЕАН    Г) ФКЕГ

**Вставити пропущені слова в речення**

11. Державна територія - це частина -----, окреслена ----- визначеною лінією-----, яка відділяє----- цієї держави від----- інших-----.
12. Державний кордон – лінія і ----- поверхня, яка проходить по цій-----, що визначає----- державної ----- по -----, воді, у ----- землі й ----- просторі.
13. Децентралізація державного управління - це----- повноважень місцевих----- виконавчої----- й ----- місцевого----- за рахунок----- центральних-----.
14. Природне вимирання населення через збільшення у віковій структурі людей похилого віку це \_\_\_\_\_
15. На території України функціонують: \_\_\_\_\_ міст, \_\_\_\_\_ селищ міського типу, \_\_\_\_\_ сіл.
16. Встановити відповідність

№	Цілі сталого розвитку людства		Логотип
1	Боротьба зі зміною клімату	А	
2	Зменшення нерівності	Б	
3	Інновації та інфраструктура	В	
4	Гідна праця та економічне зростання	Г	
5	Відповідальне споживання	Д	

**Пройти тестування за посиланням:**

<https://naurok.com.ua/test/join?gamecode=3572934>

Основи здоров'я 5 клас

18.05.2022

**Тема: Безпека на воді.**

Опрацювати параграф відповіді на питання усно

Які рятувальні засоби можна зробити з підручних матеріалів?

Основи здоров'я 6 клас

17.05.2022

**Тема: Поведінка в екстремальних ситуаціях.**

Опрацювати §30 відповідати на питання усно, виписати номери екстремальних служб

Основи здоров'я 7 клас

20.05.2022

**Тема: Особливості поширення ВІЛ-інфекції в Україні і світі.**

Опрацювати §29 відповіді на питання усно